

**1 )Aşağıdaki ifadelerden hangisi yanlıştır?**

- A)Ağaçların yosunlu tarafı kuzeyi gösterir.  
B)Karıncanın yuvalarının ağzı doğuya bakar.  
C)Müslüman mezarlıklarında mezarın baş kısmı batıya bakar.  
D)Öğle vaktinde gölgemizin yönü kuzeyi gösterir.

Milli Mücadele sırasında vatanımızı kurtarmak için birçok cephede işgalcilere karşı savaşıldı.

**2) Aşağıda savaştığımız cepheler ve ülkeler eşleştirilmiştir. Verilenlerden hangisi yanlıştır?**

- A)Doğu Cephesi- Ermeniler  
B)Batı Cephesi – Yunanlılar  
C)Kuzey Cephesi- İngilizler  
D)Güney Cephesi – Fransızlar

**3)Aşağıdakilerden varlıklardan hangisi beşeri unsurlardan birisidir?**

- A)Van gölü B)Alanya Kalesi  
C)İhlara Vadisi D)Manavgat Şelalesi

**4)Aşağıdakilerden hangisi yön bulmak için kullanılan yöntemlerden değildir?**

- A)GPS cihazı kullanmak  
B)Bulutlara bakmak  
C)Gölgeden yararlanmak  
D)Kutup Yıldızı'na bakmak

**5)Aşağıdaki Kuvâ-yı Millîye kahramanlarından hangisi güney cephede savaşmamıştır?**

- A)Şahin Bey B)Sütçü İmam  
C)Ali Saip Bey D)Erzurumlu Kara Fatma

**6)“Bir millete özgü kültürel öğelerin tümüne milli kültür denir ve bu öğeler milletin ortak ürünüdür.” Bu açıklamaya göre aşağıdakilerden hangisi bizim kültürel öğelerimizden biri değildir?**

- A)Bayramlaşma B)Yılbaşı kutlaması  
C)Düğün töreni D)Halk oyunları

**7) Ülkemizde hava tahminlerinde bulunan kuruma Aşağıdakilerden hangisidir?**

- A)Devlet Meteoroloji İşleri Genel Müdürlüğü  
B)Devlet Su İşleri Genel Müdürlüğü  
C)Milli Eğitim Müdürlüğü  
D)İl Sağlık Müdürlüğü

**8) 1.Dünya savaşından sonra yurdumuzu işgal eden düşmanlara karşı, Kurtuluş Savaşı'nda birçok cephede mücadele ettik. Buna göre Güney Cephesinde kimlere karşı savaştık?**

- A)Yunanlılara B)Ermenilere

C)Fransızlara

D)Almanlara

**9)“Annem ne zaman eski bir Türk filmi izlese yanağından yaşlar akmaya başlar.” diye belirten Aslı, annesinin hangi özelliğinden bahsetmektedir?**

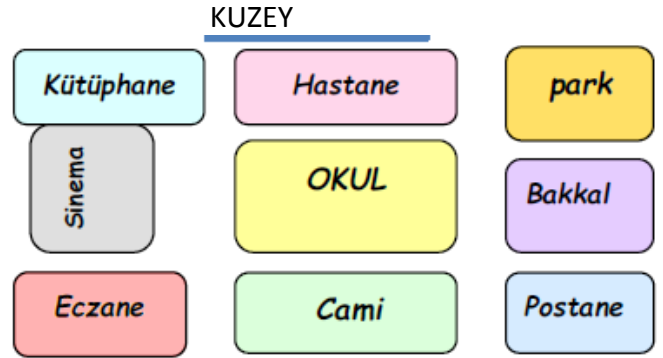
- A)Duygusal B)Fiziksel  
C)kültürel D)Hepsi

**10) Osmanlı Devleti'nin itilaf devletleri tarafından işgal edilmesine imkan sağlayan antlaşma aşağıdakilerden hangisidir?**

- A)Mondros Ateşkes Antlaşması  
B)Lozan Antlaşması  
C)Londra Antlaşması  
D)Mudanya Ateşkes Antlaşması

**11) Yunanlılar İzmir'i işgal ettiğinde bu olaya tepki göstererek Yunan askerlerine ilk direniş gösteren kahramanımız kimdir?**

- A)Hasan Tahsin B)Şahin Bey  
C)Sütçü İmam D)Ezinelî Yahya Çavuş



**12) Aşağıdaki krokiye göre soruları cevaplayın.**

Okulun doğusunda ..... vardır.  
Okulun kuzeyinde ..... vardır.  
Okulun güneyinde ..... vardır.  
Okulun kuzeybatısında ..... vardır.  
Okulun güneydoğusunda ..... vardır.

**13)Aşağıda verilen bilgilerden doğru olanlara D; yanlış olanlara Y yazınız.**

- (....) Parklar, tarlalar, barajlar çevremizdeki doğal unsurlara örnektir.  
(....) Karınca yuvalarının ağzı güneye bakar.  
(....) İnsanlar tarafında oluşturulan unsurlara “ doğal unsur” denir.  
(....) Fiziki haritada dağlar, göller, ovalar, nehirler gibi bilgileri buluruz.  
(....) Doğu Cephesinde, İsmet İnönü komutanlığında savaşılmıştır.  
(....) “Şerife Bacı” İstiklal Savaş'ımızın kadın kahramanlarından.  
(....) Millî kültürümüz içinde destanlarımız, türküler ve şiirlerimiz önemli yer tutar.  
(....) Pusulanın renkli ucu daima güneyi gösterir.

**14) Aşağıdakilerden hangisi doğal unsur değildir?**

- A) Deniz B) Ağaç C) Köprü D) Dağ

**15) Aşırı yağmur ve hızlı kar erimesi sonucu hangi doğal afet oluşur?**

- A) Sel B) Çığ C) Heyelan D) Erozyon

**16) Burcu arkadaşına oturduğu evin yerini tarif etmek istiyor. Burcu'nun bunun için aşağıdakilerden hangisini kullanması doğru olur?**

- A) Siyasi harita B) Kroki  
C) Fiziki harita D) İdari harita

**Gökçe hayatındaki bazı olayları anlatıyor:**

- I .2007 yılında Ankara'da doğdum.  
II .2013 yılında ilkökula başladım.  
III .2011 yılında kardeşim Mehmet doğdu.  
IV .2015 yılında satranç turnuvasında ödül aldım.  
V .2012 yılında anaokulundan mezun oldum.

**17) Yukarıdaki olayların kronolojik sıralaması aşağıdakilerden hangisidir?**

- A) I, III, II, IV ve V B) I, III, V, II ve IV  
C) II, III, IV, I ve V D) I, III, IV, V ve II

**18) Fiziki haritada aşağıdakilerden hangisi gösterilmez?**

- A) Dağlar B) Ovalar C) İl sınırları D) Göller

**19) Aşağıdakilerden hangisi yön bulma yöntemlerinden biri değildir?**

- A) Sopanın gölgesinden B) Karınca yuvaları  
C) Geceleri Ay'a göre D) Kutup yıldızı

**20) Millî Mücadele'de milletimizin başarılı olmasının sebebi aşağıdakilerden hangisidir?**

- A)Silah ve cephanesinin fazla olması  
B)Düşman ordusunun sayıca az olması  
C)Bağımsızlığını koruma konusunda kararlılığı  
D)Komşu devletlerin askerlerinin yardım etmesi

**21) Milli Mücadele'de gösterdiği başarılarından dolayı hangi ilimize unvan verilmemiştir?**

- A) Maraş B) Adana C) Urfa D) Antep

**22) Aşağıdakilerden hangisi milli değerlerimize sahip çıkmayan bir kişinin yapacağı bir davranıştır?**

- A) Ailesi ile bayram ziyaretine giden bir baba  
B) Tarihi yerlere çöp atan bir kişi  
C) Misafire kahve yapan anne  
D) Annesinin çeyizini özenle saklayan bir kız

**23) Aşağıdakilerden hangisi Kurtuluş Savaşı sırasında yapılan savaşlardan biri değildir?**

- A) Sakarya Savaşı  
B) Çanakkale Savaşı  
C) İnönü Savaşları  
D) Başkomutanlık Meydan Muharebesi

**24) TBMM'nin ilk uluslararası siyasi başarı olarak nitelendirdiği antlaşma aşağıdakilerden hangisidir?**

- A) Ankara Antlaşması B) Gümrü Antlaşması  
C) Lozan Barış Antlaşması D) İstanbul Antlaşması

**25) Hava durumunu spiker; "Meteorolojiden alınan son bilgilere göre yarın Trabzon'da yoğun sis görülecek-tir." şeklinde bir haber sunmuştur. Bu haber aşağıdakilerden en çok hangisini ilgilendirir?**

- A) işçileri B) şoförleri C) polisleri D) Çocukları

**26) "İnsanlar tarafından yapılan yapılara beşeri unsur denir." Buna göre aşağıdakilerden hangisi beşeri bir unsurdur?**

- A) dağ B) baraj C) göl D) ırmak

**27) Aşağıdakilerden hangisi bir hava olayı değildir?**

- A) Yağmur B) Sis C) Çığ D) Kar

**28) Türk ordusunun Yunan ordusuyla yaptığı ilk savaş hangisidir?**

- A. Çanakkale Savaşı B. I. İnönü Savaşı  
C. I. Dünya Savaşı D. Sakarya Savaşı

**29) Kurtuluş Savaşı'nı sona erdiren muharebe aşağıdakilerden hangisidir?**

- A. Büyük Taarruz Meydan Muharebesi  
B. Sakarya Savaşı  
C. I. İnönü Savaşı  
D. II. İnönü Savaşı

- I. Erzurum Kongresi II. Amasya Genelgesi  
III. TBMM'nin açılması IV. Atatürk'ün Samsun'a gelmesi V. Sivas Kongresi

**30) Yukarıda verilenlerin doğru sıralaması aşağıdakilerden hangisidir ?**

- A. IV – II – I – V – III B. III – II – IV – I – V  
C. IV – II – III – I – V D. IV – II – I – III – V

**31) Kantinden aldığımız çikolatayı sıra arkadaşımızla paylaşmak güzel bir davranıştır. Böyle davranırsak, .....hareket etmiş oluruz. Bu cümleyi aşağıdakilerden hangisiyle anlamlı hale getirebiliriz?**

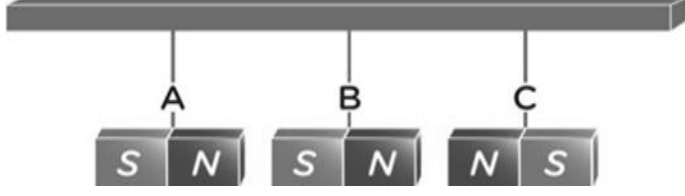
- A. ciddi B. hoşgörülü C. Duyarlı D. Sakin

**32) Dünyada milyonlarca çocuk yaşar, bu çocukların hepsi..... Yukarıdaki cümleyi aşağıdakilerden hangisiyle tamamlayabiliriz?**

- A. birbirinden farklıdır. B. çok başarılıdır.  
C. aynı sporu sever. D. aynı yeteneklere sahiptir.

1) Oyun oynarken düşüp ayağını yaralayan Kemal, hangi besin grubunu daha fazla tüketirse iyileşme süresi kısalmır?

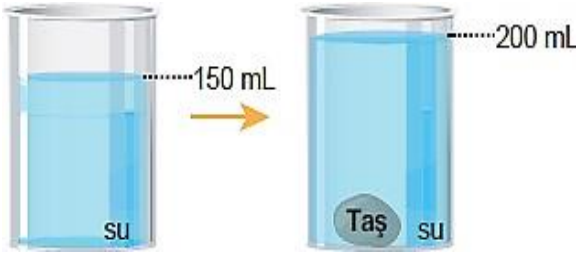
A) Karbonhidrat B) Vitamin C) Protein D) Yağ



- I. A mıknatısı ile B mıknatısı birbirini çeker.  
II. B mıknatısı ile C mıknatısı birbirini iter.
- 2) Yukarıda ipe asılı mıknatıslar için aşağıdakilerden hangisi doğrudur?
- A) I doğru, II yanlış B) İkisi de doğru  
C) I yanlış, II doğru D) İkisi de yanlış

3) Aşağıdaki ifadelerden hangisi doğrudur?

- A) Yemeğin buharı sıvı hâldedir.  
B) Kesme şeker katı hâldedir.



- C) Benzin gaz hâldedir.  
D) Buz gaz hâldedir.

4) İçerisinde 150 mL su bulunan bir kaba, bir taş atıldığında sıvı seviyesi 200 mL'ye çıkıyor. Buna göre taşın hacmi kaç mililitredir?

- A) 50 B) 100 C) 150 D) 200

5) Serkan marketten aldığı sütün üzerinde brüt 600 ml yazılı olduğunu, kutunun altında ise 500 ml yazılı olduğunu fark ediyor. Buna göre, boş kutunun darası kaç mililitredir?

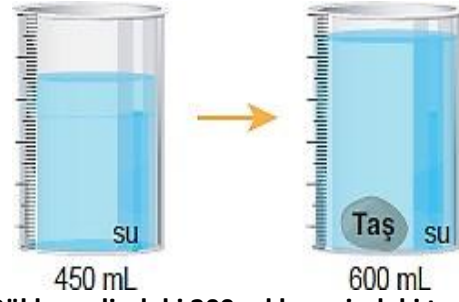
- A) 900 B) 1100 C) 500 D) 100

6) Aşağıdaki ifadelerden hangisi yanlıştır?

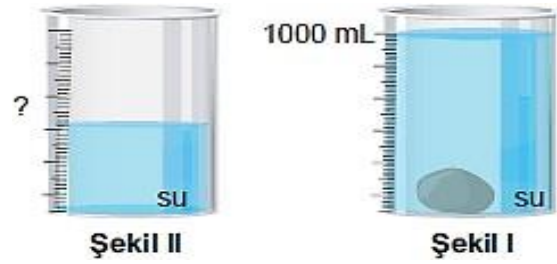
- A) Buz oda sıcaklığında bekletildiğinde erir.  
B) Su, buzdolabının buzuğuna konulduğunda donar.  
C) Isı akışı soğuk maddeden sıcak maddeye doğru gerçekleşir.  
D) Su ocakta ısıtıldığında sıcaklığı artar.

7) Semra, dereceli kaba 450 ml seviyesine kadar, su dolduruyor. Daha sonra dereceli kaba taş attığında su seviyesinin 600 ml seviyesinde olduğunu gözlemliyor. Buna göre, taşın hacmi kaç mililitredir?

- A) 150 B) 300 C) 700 D) 1050




8) Gökhan elindeki 200 ml hacmindeki taş, taşıma kabına atıyor. Daha sonra su seviyesinin 1000 ml olduğunu gözlemliyor. Buna göre, kabın içerisinde başlangıçta kaç ml su vardır?



- A) 1200 B) 900 C) 800 D) 1600

9) Maddelerin suyu çeken veya çekmeyen özelliği ile ilgili verilen örneklerden hangisi yanlıştır?

- A) Mutfak sünger suyu çeken maddeden yapılır.  
B) Evlerin çatıları suyu çekmeyen maddeden yapılır.  
C) Yağmurluklar, suyu çeken maddeden yapılır.  
D) Denizde kullanılan can yelekleri suyu çekmeyen maddeden yapılır.



10) Yukarıdaki köprü üzerinde inat edip birbirlerine yol vermeyen keçilerin birbirlerine uyguladıkları kuvvet aşağıdakilerden hangisinde doğru olarak verilmiştir?

I. Keçi II. Keçi

- A) İtme İtme  
B) Çekme Çekme  
C) İtme Çekme  
D) Bükme Bükme

11) Levent Bey düz yolda giderken aracını sağa döndürmüş, karşısına aniden bir kedi çıkınca frene basarak aracını yavaşlatmış, sonra tekrar hızlanarak yoluna devam etmiştir. Levent Bey bunları yaparken araçta kuvvetin aşağıdaki etkilerinden hangisi etkisini gözlemlememiştir?

- A) Yön deęiřtirme B) Hızlanma  
C) Durdurma D) Yavaşlama

- I. Buzdolabının kapaęını açmak  
II. Arabanın kapısını dıřarıdan kapatmak  
III. Bebek arabasını sürmek

**12) Yukarıdakilerden hangisi ya da hangileri itmeye örnektir?**

- A) II ve III B) I ve II C) Yalnız I D) I ve III

**13) Kayaçlarla ilgili verilen bilgilerden hangisi yanlıřtır?**

- A) Magmanın yeryüzüne ulaşarak soęuyup katılařmasıyla kayaçlar oluşur.  
B) Kayaçlar rüzgâr, sıcaklık farkı, yağmur gibi dıř faktörlerle parçalanır.  
C) Altın, gümüş, çinko kayaçlara örnektir.  
D) Kayaçların farklı olmasını saęlayan yapısındaki minerallerdir.

**14) Güneř'i gün içerisinde önce doğuda, sonra tepemizde sonra da batıda görmemizin sebebi hangisidir?**

- A) Dünya'nın batıdan doğuya doęru dönmesi  
B) Dünya'nın Güneř etrafında dönmesi  
C) Güneř'in Dünya etrafında dolanması  
D) Dünya'nın řeklinin küreye benzemesi

**15) Vücudumuzdaki yaraların iyileřmesi, kaslarımızın geliřmesi, büyüme ve geliřmemizi saęlayan, tırnak ve saçlarımızı uzatan besin grubu hangisidir?**

- A) Vitamin B) Yaę C) Karbonhidrat D) Protein

- I. Mısır II. Yumurta III. Peynir  
IV. Piriń V. Marul VI. Bal

**16) Yukarıdakilerden kaç tanesi hayvansal besindir?**

- A) 2 B) 3 C) 4 D) 5

**17) Ařaęıdaki bilgilerden hangisi doęrudur?**

- A) Proteinler, vücutta düzenleyici olarak görev yapar.  
B) Vitaminler, enerji elde etmek için kullanılır.  
C) Tahıllarda bolca karbonhidrat bulunur.  
D) Yaęlar, kemiklerimizin kalınlařmasını ve uzamasını saęlar.

**Sinem:** Makarna,kola,salata

**Cemil:** Pilav,tavuk,elma

**Samet:** Çorba,pizza,gofret

**Murat:**Hamburger,patates,gazoz

**18) Yukarıdaki dört arkadařtan hangisi daha saęlıklı ve dengeli beslenmiřtir?**

- A) Samet B) Murat C) Sinem D) Cemil

**19) Ařaęıdaki bilgilerden hangisi doęrudur?**

- A) Dünya doęudan batıya doęru döner.  
B) Helikopter pervanesi dolanma hareketi yapar.  
C) Tereyaęı bitkisel besin grubuna girer.  
D) Fermuarımızı kapatırken çekme kuvveti uygularız.

**20) Dünya'nın hareketleriyle ilgili verilen bilgilerden hangisi yanlıřtır?**

- A) Dünya kendi çevresinde dönme, Güneř'in etrafında ise dolanma hareketi yapar.  
B) Dünya'nın dolanma hareketi 1 günde gerçekteřir.  
C) Dünya'nın Güneř etrafında dolanma hareketi ile 4 mevsim oluşur.  
D) Dünya kendi etrafında batıdan doğuya döner.

**21) Ařaęıdaki eřleřtirmelerden hangisi yanlıřtır?**

- A.) Tuz- protein B.) Elma - vitamin  
C.) Ceviz - yaę D.) Makarna - karbonhidrat

**22) Ařaęıdakilerden hangisi Dünya'nın kendi eksen etrafında dönmelerinin sonucu deęildir?**

- A. Mevsimlerin oluşması  
B. Gece ve gündüzün oluşması  
C. Bir günün oluşması  
D. Türkiye'de gündüz yařanırken Amerika'da gece olması

I . Fosiller kısa zamanda oluşur

II . Fosiller üst üste biriken kayaçlar içerisinde oluşur.

III . Fosillerin oluşum süreci rastlantıya baęlıdır.

**23) Yukarıdaki maddelerden hangileri fosillerin özelliklerindendir?**

- A) Yalnız I B) I ve II C) II ve III D) I, II ve III

**24) Dünya kendi etrafında dönmeseydi ařaęıdaki durumlardan hangisi gerçekteřirdi?**

- A) Gece ve gündüz oluşmazdı.  
B) Daęlar oluşmazdı.  
C) Kış mevsimi daha sıcak olurdu.  
D) Mevsimler oluşmazdı.

## 2 ŞUBAT ÇARŞAMBA GÜNÜ EV ÖDEVİ

1) Aşağıdaki cümlelerin hangisinin sonuna farklı bir noktalama işareti konulmalıdır?

- A) Burada kim oturuyor ( )
- B) Olanlardan haberin var mı ( )
- C) Tatlı mı tatlı bir kuzenim var ( )
- D) Geziye kaç kişi gelecekti ( )

2) Aşağıdaki cümlelerden hangisinde öznel anlatım vardır?

- A) Bir arabanın dört lastiği bulunur.
- B) Ben 4. sınıfa gidiyorum.
- C) Bu gömlek sana çok yakıştı.
- D) Gezegeneimizin ismi Dünya'dır.

3) Aşağıdaki tümcelerde altı çizili koyu sözcükler; gerçek anlamda ise "G", mecaz anlamda ise "M", terim anlamda ise "T" harfini noktalı yerlere yazınız.

- ( ) Şevval yeni arkadaşlarına ısındı.
- ( ) Depremi etkisiyle hasarlı binalar yıkıldı.
- ( ) Matematik dersinde dikdörtgeni öğrendik.
- ( ) Kara haber köye tez ulaştı.
- ( ) Yavru kedi dışarıda soğuktan tir tir titriyordu.

4) Kısaca bakırmek anlamına gelen deyim aşağıdakilerden hangisidir?

- A) Göz kulak olmak
- B) Göz atmak
- C) Göze çarpmak
- D) Göze batmak

5) Aşağıdaki cümlelerin hangisinde "de'nin yazımı" ile ilgili bir yanlışlık yapılmıştır?

- A) Ahmet de bizimle gelecek.
- B) Arkadaşlarım da oyun oynuyor.
- C) Merve de kitap okuyacak.
- D) Gülşen ev de değil.

6) Aşağıdaki cümlelerin hangisinde büyük harfle başlaması gereken bir kelimenin yazımı yanlıştır.

- A) Mehmet Efendi sessizce ayrıldı.
- B) Ünlü Mahallesi'nde oturuyor.
- C) İzmir'e gzmeye gittik.
- D) Avukat arif bey bize yardımcı olacaktı.

7) Aşağıdaki cümlelerden hangisinde neden-sonuç ilişkisi yoktur?

- A) Söylediklerini uyguladığım için konuyu anladım.
- B) Hızlı koştuğu için yere sert düştü.
- C) Dev gibi bir dalga üzerimize geliyordu.
- D) Önündeki tümseği fark etmediği için yere düştü.

8) Aşağıdaki cümlelerin hangisinde hayal ürünü bir ifade yoktur ?

- A) Ağacın kolları kırıldı.
- B) Hasan akşam hastalandı.
- C) Devlerle kavga ettim.
- D) Balıkçı balıklarla vedalaştı

Korkuyla ( ) "Bana niçin kızdın ( )" diye sordu ( )

9) Yukarıdaki tümcede parantez içindeki yerlere, aşağıdaki noktalama işaretlerinden hangileri getirilmelidir?

- A. ( : ) ( ; ) ( ... )
- B. ( ; ) ( ? ) ( ! )
- C. ( : ) ( ? ) ( . )
- D. ( , ) ( ! ) ( . )

10) Aşağıdaki cümlelerin hangisinde karşılaştırma yapılmıştır?

- A. Kardeşim sabahları yumurta yer.
- B. Babam çay içmeyi çok sever.
- C. Ayşe Ali'den daha uzun boyludur.
- D. Ben kahvaltıda meyve yerim.

11) Aşağıdaki cümlelerin hangisinde "nesnel" biryargı vardır?

- A) Kızartmalar fritözde yapılmca güzel olur.
- B) Bilgisayar oyunları çok eğlencelidir.
- C) Telefon, haberleşme ve iletişim aracıdır.
- D) Benim telefonumla çok güzel fotoğraf çekilir.

12) Aşağıdaki cümlelerin hangisinde "öznel" bir yargı vardır?

- A) Televizyonda haber programı da vardır.
- B) Televizyondaki dizileri çok beğeniyorum.
- C) Televizyon işitsel ve görsel iletişim aracıdır.
- D) Televizyon izleyebilmek için anten kullanılır.

13) Aşağıdaki cümlelerin hangisinde "öznel" bir anlatımdır?

- A) Oturduğumuz apartman beş katlıdır.
- B) Bahçemizde bir tane erik ağacı var.
- C) En sevdiğim meyve eriktir.
- D) Meyve veren ağaç kesilmez.

14) Aşağıdaki cümlelerin hangisinde kesme işareti yanlış yerde kullanılmıştır?

- A) Ahmet, okula 2001'de başladı.
- B) İlkokulda Ankara'da başladım.
- C) Sabah'tan beri onu bekliyorum.
- D) Saat 20.30'da ders çalışmaya başladım.

15) Aşağıdaki cümlelerin hangisinde sözü söyleyen kişi hayal ürünü olan bir şeyden bahsetmiştir?

- A) Okulun kapısında Ayşe'ye rastladım.
- B) Uçan halıyla, tüm Dünya'yı gezdim.
- C) Ömer, bahçede top oynuyor.
- D) Kedi, fareyi yakaladı.

16) Aşağıdaki cümlelerin hangisi özne yargı vardır?

- A) Geçtiğimiz yaz tatilinde amcamlarla Çorum'u gezdik.
- B) Hepimiz okulun önünde bekledik.
- C) Bizim köyde çok güzel piknik yerleri var.
- D) Sabah erkenden okula gittim.

17) Aşağıdaki cümlelerdeki verilen altı çizili kelime-lerden hangisi terim anlamı ile kullanılmış?

- A) Oyuncaklarımı sepete koydum.

- B) Elbiselerimi askıya astım.  
C) Okulla evimizin arası yüz metre.  
D) Evimizin bahçesine kulübe yaptık.

**18) Aşağıdakilerin hangisinde "sıcak" kelimesi mecaz anlamıyla kullanılmıştır?**

- A) Bana neden sıcak davranıyorsun?  
B) Sıcak suyla duş aldım.  
C) Çay sıcak sakın içme.  
D) Havalar epey sıcaktı.

**19) Aşağıdaki cümlelerin hangisinde abartılı bir ifade yoktur?**

- A) Öyle şaşırdı ki ağzı bir karış açık kaldı.  
B) Kızgınlıktan gözlerinin içinden ateş fışkırıyordu.  
C) Bebeğin minicik elleri ve ayakları vardı.  
D) Ayakları bir sandal kadar büyüktü.

**20) Aşağıdaki verilen altı çizili hangi kelimeye getirilen ek kesme işareti ile ayrılmalıdır?**

- A) Aliler tatile bizimle geliyor.  
B) Konyalı bir arkadaşım var.  
C) Adanalılar, çok çalışkan insanlardır.  
D) Ankara, Türkiyenin başkentidir.

**21) Dilimize yabancı kelimelerden girmiş birçok kelime vardır. Aşağıdaki kelimelerden hangisi Türkçe bir kelimedir?**

- A) mavi B) kroki C) ajanda D) sert

**"Buzağı, ahırda keyifle ineği emiyordu."**

**22) Yukarıdaki cümlede aşağıda verilen sorulardan hangisinin cevabı yoktur?**

- A) Kim? B) Nasıl? C) Ne zaman? D) Nerede?

**23) Aşağıdaki seçeneklerin hangisinde karşılaştırma yapılmamıştır?**

- A) Siyah renk, beyaza oranla ısıyı daha çok emer.  
B) Hasan ,Ahmet ve Mert çok sinirlidir.  
C) Bıçak, ustura kadar kesmeyebilir.  
D) Okan ,Musa gibi korkak değil.

**24) Aşağıdaki cümlelerin hangisinde "gelin" kelimesi diğerlerinden farklı bir anlamda kullanılmıştır?**

- A) Yarın öğleden sonra bize gelin.  
B) Ablam çok güzel bir gelin oldu.  
C) Eve gelin de konuşalım.  
D) Öğretmenimiz "Yarın erken gelin" dedi.

**"Oofff( )Çok yorulдум( )Siz yorulmadınız mı( ) "**

**25) Yukarıdaki cümlede parantez içlerine sırasıyla hangi noktalama işaretleri konulmalıdır?**

- A) (!) (?) (.) B) (!) (.) (?)  
C) (!) (?) (?) D) (.) (!) (?)

**26) Aşağıdaki cümlelerin hangisinde "acı" sözcüğü mecaz anlamında kullanılmamıştır?**

- A) Bu adam çok acı çekti.  
B) Babam acı biberi çok sever.  
C) Acılar insanı çok yıpratır.  
D) Acı çekmek çok zordur.

### KUYUDAKİ AY

Bir yaz gecesinde Nasrettin Hoca'nın uykusu kaçır. Bahçeye iner.

- Şuradan buz gibi bir su içeyim der kendi kendine. Kuyuya, kovayı indirmek için eğildiğinde, bir de ne görsün! Ay kuyunun içinde değil mi?

- Ay suya düşmüş. Ay nasıl olmuş da suya düşmüş? Şunu çıkarayım bari, der.

İpinden tutar, kovayı kuyuya sallandırır. İşte o sırada kova, kuyudaki çıkıntılı bir taşla takılır. Çeker, kova gelmez .Uğraşır ,didinir .Sonra ipi biraz gevşetir. Kovanın kurtulduğunun farkına varmaz. Tekrar bütün gücü ile çekince sırt üstü düşer. Bir de ne görsün, Ay gökyüzünde değil mi!

-Eehh, der .Düştüysen de Ay da kuyudan çıktı ya!

**27) Nasrettin Hoca niçin kuyuya eğilmiş?**

- A) Ay'ı kurtarmak için  
B) Gölgesine bakmak için  
C) Soğuk su almak için  
D) Elbiselerini yıkamak için

**28) Nasrettin Hoca su almak için kuyuya eğildiğinde ne görmüştür?**

- A) Ay'ın kuyuya düştüğünü  
B) Kuyuda su olmadığını  
C) Karısının kuyuda olduğunu  
D) Kovanın kuyuya düştüğünü

**29) Nasrettin Hoca ,Ay'ı gökyüzünde görünce ne söylemiştir?**

- A) Eehh,der .Düştüysen de Ay da kuyudan çıktı ya!  
B) Ay nasıl gökyüzüne çıktı?  
C) Kova nereye gitti?  
D) Ben neredeyim?

**30) Aşağıdaki sözcükler sözlük sırasına(alfabetik sıra) konduğunda hangisi baştan ikinci sırada yer alır?**

- A) erik B) elma C) ezan D) ezel

### 3 ŞUBAT PERŞEMBE GÜNÜ EV ÖDEVİ

1) Hangi sayının 48 fazlasının 1320 eksiği 59 eder?

Çözüm

2) 290 fazlasının 188 eksiği 8123 olan sayı kaçtır?

Çözüm

3) Hangi sayının 14 katının 154 eksiği 322 olur?

Çözüm

4) 6950 liraya aldığımız koltuk takımına peşinat olarak 550 lira ödedik. Kalan para 16 taksitte ödenecektir. Her bir taksitte kaç lira ödemeliyiz?

Çözüm

5) 1190 km'lik yolu 14 saatte giden aracın saat-teki hızı kaç km'dir?

Çözüm

6) Kalanlı bölme işleminde bölüm 76, bölen 28'dir. Bölünen kaç olur?

Çözüm

7) Kasadaki 41 liranın 16 lirası 10 kuruşluk, kalan para 25 kuruşluklardır. Kasada kaç tane para vardır?

Çözüm

8) 3850 liraya aldığımız televizyona 350 lira peşin verip, kalanı 14 taksitte ödeyeceğiz. Her taksit- te kaç lira ödeyeceğiz?

Çözüm

8)  $\frac{4}{7}$ 'i 2800 olan sayının  $\frac{3}{5}$  'i kaçtır?

Çözüm

9) İşçiler 4800 km lik yolun  $\frac{3}{8}$  ünü, bitirdiler.

Geriye kaç km yol kaldı?

Çözüm

10) 2400 liraya aldığımız televizyonun parasının  $\frac{3}{12}$  ünü peşin ödedik. Kalan kısmı 6 ayda ödeyeceğiz. Ayda kaç lira ödemeliyiz?

Çözüm

11) 147820 sayısındaki binler ve onlar basamağının yerleri değiştirilerek elde edilen sayının, önceki sayı ile farkı kaçtır?

Çözüm

$$KLMN - 1919 = 2018$$

12) Yukarıdaki işlemde verilmeyen KLMN sayısının rakamları toplamı kaçtır?

Çözüm

1) İki yüz otuz bin otuz "sayısının rakamla yazıldığı hangi seçenekte doğru verilmiştir?

A.203.030 B.20.030 C.230.030 D.203.300

2) Kalansız bir bölme işleminde bölünen sayı 420' dir.Bölen 3 ise bölüm kaçtır?

A)14 B) 140 C) 101 D)104

415 356

3) Yukarıda verilen sayının binler bölümündeki 5 rakamının basamak değeri kaçtır?

A) 50 B) 500 C) 5000 D) 50 ,000

4) Bir şehrin nüfusu en yakın yüzlüğe yuvarlandığında 25 900 bulunuyor. Buna göre bu şehrin nüfusu kaç kişi olabilir?

A) 25 099 B) 25 959 C) 25 949 D) 25 999

		5	A	5	
	x		1	B	
	1	5	4	5	
+	C	1	5		
	6	6	9	5	

5) Yukarıdaki işleme göre A + B + C işleminin sonucu kaçtır?

A) 4 B) 5 C) 6 D) 9

6) Bir çiftlikte 10 tane ahır vardır. Her ahırda 234 inek vardır. İneklerin yarısı kadarda koyun vardır. Çiftlikte toplam kaç hayvan vardır?

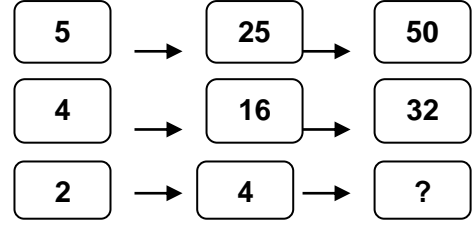
A) 2340 B) 1170 C) 1200 D) 3510

7) Bir bölme işleminde bölen sayı 5,bölüm 10 ve kalan sayı 3 ise, bölünen sayı kaçtır?

A) 5 B) 50 C) 53 D) 55

8) " $\frac{a}{7}$ " kesri **basit kesir** olduğuna göre "a" yerine aşağıdakilerden hangisi yazılamaz?

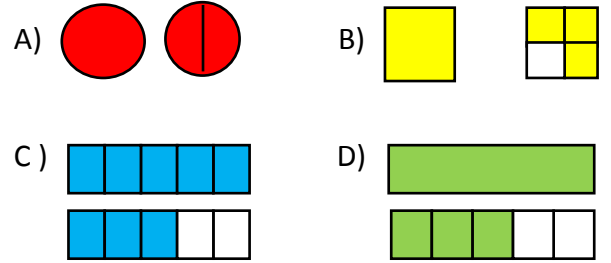
A) 2 B) 3 C) 5 D) 8



9) Yukarıdaki örüntü bir kurala göre dizilmiştir. Aşağıdakilerden hangisi "?" yere gelmelidir?

A) 16 B) 18 C) 8 D) 24

10)  $1\frac{3}{5}$  kesrinin şekille gösterilişi hangisidir?



11) Yukardaki modellenen kesir sayısı aşağıdakilerden hangisidir?

A)  $2\frac{2}{8}$  B)  $2\frac{2}{4}$  C)  $1\frac{2}{2}$  D)  $1\frac{2}{4}$

12) Aşağıdakilerden hangisi bileşik kesirdir?

A.  $\frac{3}{4}$  B.  $\frac{5}{4}$  C.  $\frac{2}{9}$  D.  $\frac{7}{9}$

14) Aşağıdakilerden hangisi basit kesirdir?

A-  $\frac{8}{9}$  B-  $\frac{7}{5}$  C-  $\frac{5}{2}$  D-  $\frac{4}{3}$

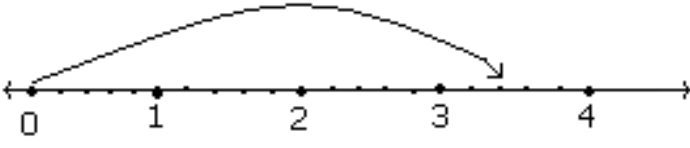
15)  $\frac{1}{7}$  'si 1000 g olan şekerin tamamı kaç kg' dır?

A-7000 B-700 C-70 D-7

16)  $\frac{3}{5}$  ' ü 150 olan sayının tamamının iki katı kaçtır?

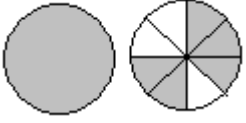


16) Aşağıdaki sayı doğrusu üzerinde hangi kesir sayısı gösterilmiştir?



- A.  $3\frac{2}{5}$  B.  $2\frac{2}{5}$  C.  $2\frac{2}{4}$  D.  $1\frac{3}{5}$

17) Aşağıdaki şeklin kesirle ifadesi hangi seçenekte verilmiştir?



- A.  $1\frac{3}{8}$  B.  $\frac{3}{8}$  C.  $1\frac{5}{8}$  D.  $\frac{5}{8}$

18) Bir araba 60 km'lik yolun  $\frac{3}{5}$  ünü gitmiştir. Geriye kaç km yol kalmıştır?

- A.12 B.20 C.24 D.36

19) Aşağıdaki kesirlerden hangisi bileşik kesirdir?

- A.  $\frac{9}{8}$  B.  $\frac{4}{5}$  C.  $1\frac{1}{3}$  D.  $\frac{8}{9}$

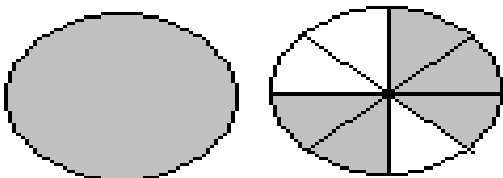
20) Aşağıdaki kesirlerden hangisi basit kesirdir?

- A.  $\frac{4}{3}$  B.  $\frac{1}{5}$  C.  $\frac{5}{4}$  D.  $\frac{6}{5}$



21) Yukardaki modellenen kesir aşağıdakilerden hangisidir?

- A.  $\frac{9}{4}$  B.  $\frac{10}{4}$  C.  $\frac{4}{10}$  D.  $\frac{2}{10}$



22) Yukarıdaki şekillerde boyalı kısımların tam sayılı kesir ile gösterilişi aşağıdakilerden hangisidir?

- A.  $1\frac{5}{6}$  B.  $1\frac{1}{8}$  C.  $1\frac{5}{8}$  D.  $1\frac{3}{8}$



23) Şekildeki boyalı kısımların belirttiği kesir sayısı aşağıdakilerden hangisidir?

- A)  $\frac{3}{13}$  B)  $\frac{13}{3}$  C)  $\frac{13}{6}$  D)  $\frac{18}{6}$

24) 2400 sayısının  $\frac{5}{6}$  sı kaçtır?

- A) 2000 B) 2100 C) 2300 D) 2200

25) Kesir modellerini bileşik veya tam sayılı kesir sayısı olarak yazarak örnekteki gibi ok ile gösteriniz.

